



**PRUEBA SELECTIVA PARA EL ACCESO AL CUERPO DE TECNICOS
AUXILIARES, OPCION CELADOR DE CAZA Y PESCA FLUVIAL,
CODIGO DFX37L-8.
MODALIDAD: LIBRE.**

**2º EJERCICIO: DOS SUPUESTOS PRACTICOS.
CUESTIONARIO DE 70 PREGUNTAS
DURACIÓN DEL EJERCICIO: 60 MINUTOS
EJERCICIO ELIMINATORIO.**

MURCIA, 23 DE ENERO DE 2017

SUPUESTO PRÁCTICO Nº 1: SOBRE IDENTIFICACION DE ESPECIES FAUNISTICAS (PREGUNTAS 1 A 40).

ESCRIBE EL NOMBRE COMUN DE LA ESPECIE FAUNISTICA A LA QUE HACE REFERENCIA EL DIBUJO O FOTOGRAFIA DE CADA PREGUNTA:

1.



2.



3.



4.



5.



6.



SUPUESTO PRÁCTICO N° 1:

ESCRIBE EL NOMBRE COMUN DE LA ESPECIE FAUNISTICA A LA QUE HACE REFERENCIA EL DIBUJO O FOTOGRAFIA DE CADA PREGUNTA:

7.



8.



9.



10.



11.



12.



SUPUESTO PRÁCTICO Nº 1:

ESCRIBE EL NOMBRE COMUN DE LA ESPECIE FAUNISTICA A LA QUE HACE REFERENCIA EL DIBUJO O FOTOGRAFIA DE CADA PREGUNTA:

13.



14.



15.



16.



17.



18.



SUPUESTO PRÁCTICO N° 1:

ESCRIBE EL NOMBRE COMUN DE LA ESPECIE FAUNISTICA A LA QUE HACE REFERENCIA EL DIBUJO O FOTOGRAFIA DE CADA PREGUNTA:

19.



20.



21.



22.



23.



24.



SUPUESTO PRÁCTICO N° 1:

ESCRIBE EL NOMBRE COMUN DE LA ESPECIE FAUNISTICA A LA QUE HACE REFERENCIA EL DIBUJO O FOTOGRAFIA DE CADA PREGUNTA:


25.



26.



27.



28.



29.



30.



SUPUESTO PRÁCTICO Nº 1:

ESCRIBE EL NOMBRE COMUN DE LA ESPECIE FAUNISTICA A LA QUE HACE REFERENCIA EL DIBUJO O FOTOGRAFIA DE CADA PREGUNTA:

31.



32.




33.



34.



35.



36.



SUPUESTO PRÁCTICO N° 1:

ESCRIBE EL NOMBRE COMUN DE LA ESPECIE FAUNISTICA A LA QUE HACE REFERENCIA EL DIBUJO O FOTOGRAFIA DE CADA PREGUNTA:

37.



38.



39.



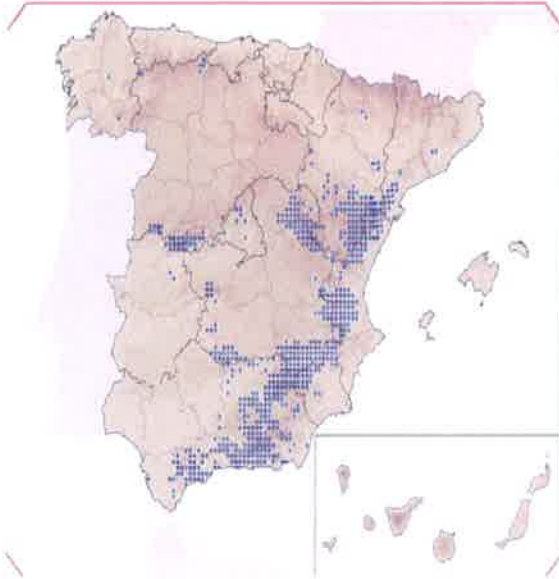
40.



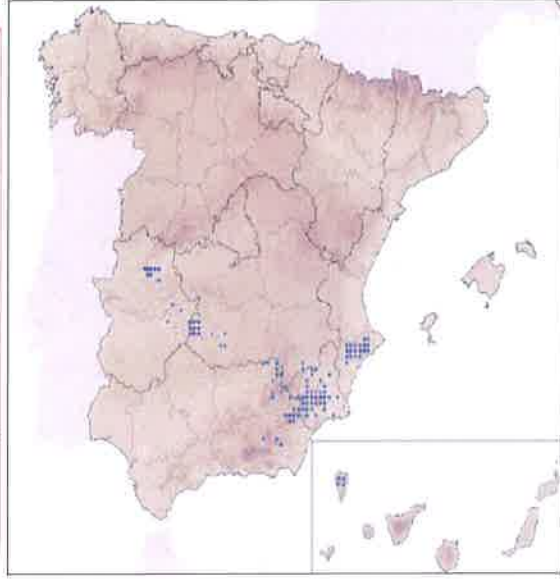
SUPUESTO PRACTICO Nº 2: SOBRE IDENTIFICACION DE AREAS DE DISTRIBUCION Y MUESTREO DE ESPECIES FAUNISTICAS, MORFOLOGIA, HUELLAS Y UTENSILIOS PARA LA ACTIVIDAD CINEGETICA (PREGUNTAS 41 A 70).

ESPECIFICA EL NOMBRE COMUN DE LA ESPECIE FAUNISTICA DE UNGULADO SILVESTRE A LA QUE PERTENECEN LAS AREAS DE DISTRIBUCION ESPAÑOLAS EXPUESTAS EN CADA PREGUNTA:

41.



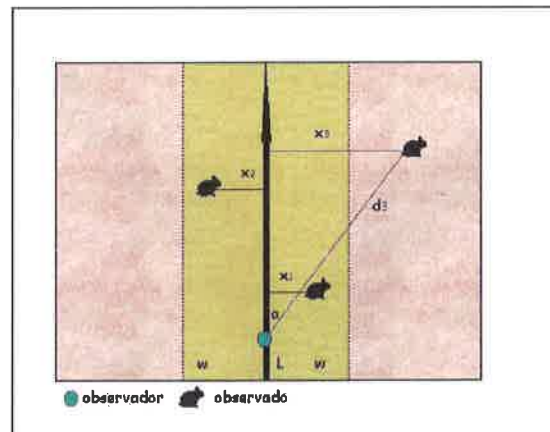
42.



RESPONDE A LAS SIGUIENTES PREGUNTAS ESCRIBIENDO LA RESPUESTA CORRECTA CON LA LETRA CORRESPONDIENTE:

43. En un muestreo por bandas se miden los siguientes parámetros. Escribe la letra de la respuesta incorrecta de las siguientes alternativas.

- Número de animales contactados.
- Ancho de la banda a cada lado del itinerario.
- Longitud total recorrida.
- Detectabilidad de la especie a censar.



44. ¿Cuántos campos intervienen para la efectividad de una cámara de fototrampeo? Escribe la letra de la respuesta correcta de las siguientes alternativas.

- Dos (campo óptico y campo de iluminación).
- Cuatro (campo de actuación, campo óptico, campo de detección y campo de iluminación).
- Cinco (campo de actuación, campo óptico, campo de detección, campo de duración y campo de iluminación).
- Tres (campo óptico, campo de detección y campo de iluminación).

SUPUESTO PRACTICO N° 2:

ESCRIBE EL NOMBRE COMUN DE LA ESPECIE FAUNISTICA A LA QUE PERTENECEN LOS SIGUIENTES RESTOS EXPUESTOS EN CADA PREGUNTA:

45.



46.



47.



48.



SUPUESTO PRACTICO N° 2:

ESCRIBE EL NOMBRE COMUN DE LA ESPECIE FAUNISTICA A LA QUE PERTENECEN LOS SIGUIENTES RESTOS EXPUESTOS EN CADA PREGUNTA:

49.



50.



51.



52.



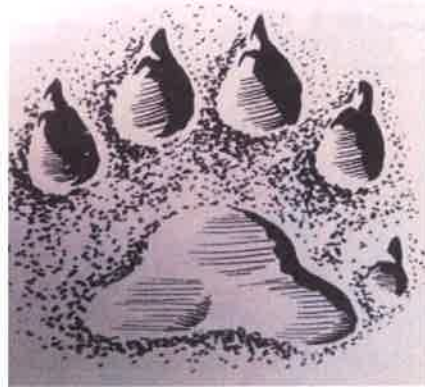
SUPUESTO PRACTICO Nº 2:

ESCRIBE EL NOMBRE COMUN DE LA ESPECIE FAUNISTICA AUTOCTONA, PRESENTE EN LA REGION DE MURCIA A LA QUE PERTENECEN LAS SIGUIENTES HUELLAS EXPUESTAS EN CADA PREGUNTA:

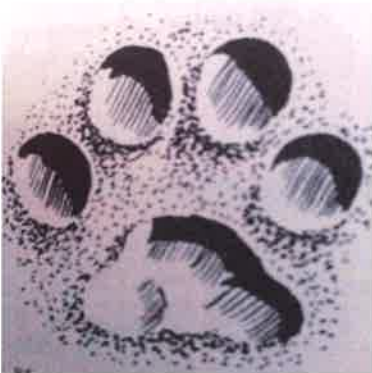
53.



54.



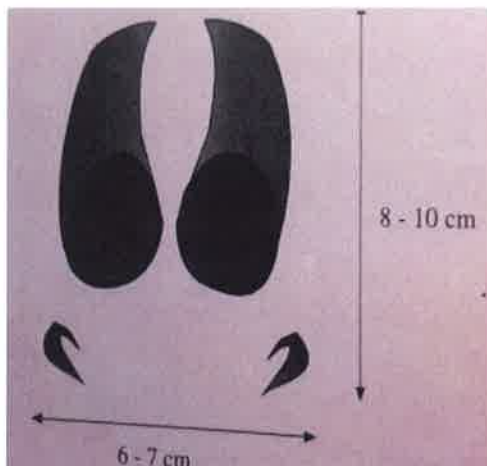
55.



56.



57.



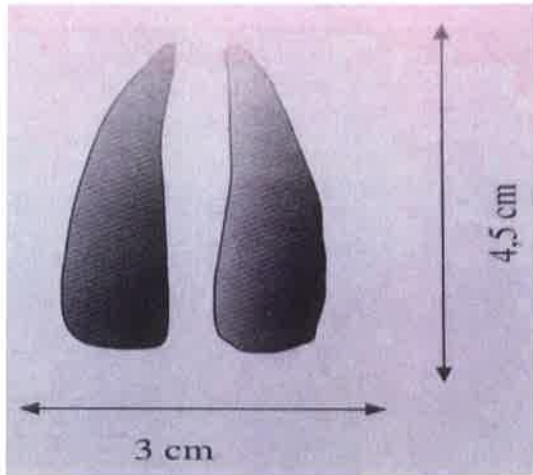
58.



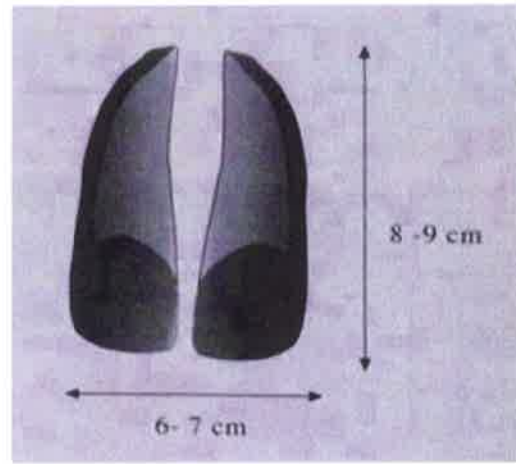
SUPUESTO PRACTICO N° 2:

ESCRIBE EL NOMBRE COMUN DE LA ESPECIE FAUNISTICA AUTOCTONA, PRESENTE EN LA REGION DE MURCIA A LA QUE PERTENECEN LAS SIGUIENTES HUELLAS EXPUESTAS EN CADA PREGUNTA:

59.



60.



ESPECIFICA A QUE TIPO DE ESCOPETA DE CAZA MENOR HACE REFERENCIA CADA FOTOGRAFIA:

61.



62.



SUPUESTO PRACTICO N° 2:

ESPECIFICA A QUE TIPO DE ESCOPETA DE CAZA MENOR HACE REFERENCIA CADA FOTOGRAFIA:

63.



64.



SUPUESTO PRACTICO N° 2:

ESPECIFICA LO QUE ESTAS VIENDO EN CADA IMAGEN O FOTOGRAFIA RELACIONADA CON LA ACTIVIDAD CINEGETICA:

65.



66.



67.



68.



SUPUESTO PRACTICO N° 2:

ESPECIFICA LO QUE ESTAS VIENDO EN CADA IMAGEN O FOTOGRAFIA RELACIONADA CON LA ACTIVIDAD CINEGETICA:


69.



70.



NO FIRME ESTE EJERCICIO NI CONSIGNE NINGÚN OTRO DATO



TIPO EXAMEN 1 2 3 4 5 6 7 8 9 10

RESPUESTAS

**MARQUE
CORRECTAMENTE
BIEN**


ASÍ NO MARQUE


1	A B C D	31	A B C D	61	A B C D	91	A B C D	121	A B C D
2	A B C D	32	A B C D	62	A B C D	92	A B C D	122	A B C D
3	A B C D	33	A B C D	63	A B C D	93	A B C D	123	A B C D
4	A B C D	34	A B C D	64	A B C D	94	A B C D	124	A B C D
5	A B C D	35	A B C D	65	A B C D	95	A B C D	125	A B C D
6	A B C D	36	A B C D	66	A B C D	96	A B C D	126	A B C D
7	A B C D	37	A B C D	67	A B C D	97	A B C D	127	A B C D
8	A B C D	38	A B C D	68	A B C D	98	A B C D	128	A B C D
9	A B C D	39	A B C D	69	A B C D	99	A B C D	129	A B C D
10	A B C D	40	A B C D	70	A B C D	100	A B C D	130	A B C D
11	A B C D	41	A B C D	71	A B C D	101	A B C D	131	A B C D
12	A B C D	42	A B C D	72	A B C D	102	A B C D	132	A B C D
13	A B C D	43	A B C D	73	A B C D	103	A B C D	133	A B C D
14	A B C D	44	A B C D	74	A B C D	104	A B C D	134	A B C D
15	A B C D	45	A B C D	75	A B C D	105	A B C D	135	A B C D
16	A B C D	46	A B C D	76	A B C D	106	A B C D	136	A B C D
17	A B C D	47	A B C D	77	A B C D	107	A B C D	137	A B C D
18	A B C D	48	A B C D	78	A B C D	108	A B C D	138	A B C D
19	A B C D	49	A B C D	79	A B C D	109	A B C D	139	A B C D
20	A B C D	50	A B C D	80	A B C D	110	A B C D	140	A B C D
21	A B C D	51	A B C D	81	A B C D	111	A B C D	141	A B C D
22	A B C D	52	A B C D	82	A B C D	112	A B C D	142	A B C D
23	A B C D	53	A B C D	83	A B C D	113	A B C D	143	A B C D
24	A B C D	54	A B C D	84	A B C D	114	A B C D	144	A B C D
25	A B C D	55	A B C D	85	A B C D	115	A B C D	145	A B C D
26	A B C D	56	A B C D	86	A B C D	116	A B C D	146	A B C D
27	A B C D	57	A B C D	87	A B C D	117	A B C D	147	A B C D
28	A B C D	58	A B C D	88	A B C D	118	A B C D	148	A B C D
29	A B C D	59	A B C D	89	A B C D	119	A B C D	149	A B C D
30	A B C D	60	A B C D	90	A B C D	120	A B C D	150	A B C D

